

29C

Prénom _____

Date _____

Maths au CP

Nombres
et calculs

Colorie les sacs pour obtenir
la quantité de billes demandée.

39




37



Complète.

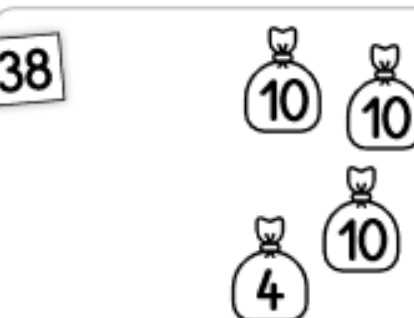
32



35



38



29



29D


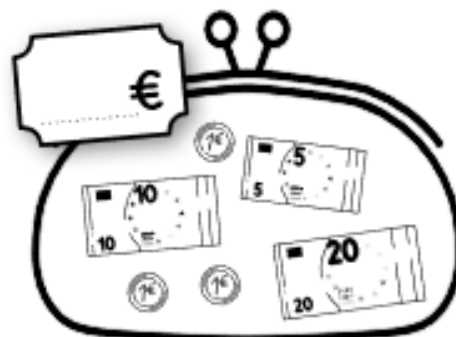
Prénom _____

Date _____

Maths au CP

Grandeurs
et mesures

Écris la somme contenue dans chaque portemonnaie.



Barre les pièces et les billets en trop.

