


51 Lire et écrire les nombres jusqu'à 89

✓ J'écris les nombres de 80 à 89 de différentes manières.

d	u
8	5

85
 $80 + 5$
 $20 + 20 + 20 + 20 + 5$
 $10 + 10 + 10 + 10 + 10 + 10 + 10 + 5$
 8d et 5u




Écris les nombres en chiffres.




83	quatre-vingt-trois
.....	$80 + 8$
.....	quatre-vingt-six
.....	quatre-vingts
.....	$4 + 80$
.....	$40 + 40 + 7$
.....	8 d et 2 u
.....	$20 + 20 + 20 + 20 + 5$
.....	$80 + 1$
.....	$10 + 10 + 10 + 10 + 10 + 10 + 10 + 10 + 9$

Combien y a-t-il d'escargots?



Il y a groupes de 10 escargots et escargots tout seuls.
 En tout, il y a escargots.

Calcule.

$10 + 10 + 10 + 10 + 10 + 10 + 5 = 65$ 

$10 + 10 + 10 + 10 + 10 + 10 + 10 + 10 + 3 = \dots\dots\dots$

$6 + 10 + 10 + 10 + 10 + 10 + 10 + 10 + 10 = \dots\dots\dots$

$10 + 10 + 10 + 10 + 9 + 10 + 10 + 10 = \dots\dots\dots$

$10 + 10 + 10 + 10 + 10 + 10 + 10 + 10 = \dots\dots\dots$

$80 + 2 = \dots\dots\dots$


$9 + 80 = \dots\dots\dots$

$8 + 40 = \dots\dots\dots$

$86 - 1 = \dots\dots\dots$

$87 - 3 = \dots\dots\dots$

Écris les nombres en chiffres.

quatre-vingt-cinq 85  quatre-vingt-sept

quatre-vingt-un

quatre-vingts

quatre-vingt-quatre

quatre-vingt-huit

Complète.

